

La Sarthe

LE FILM




Rendez-vous sur www.sarthe.fr pour découvrir le nouveau film « La Sarthe ».
Sport, culture, patrimoine, loisirs et économie, redécouvrez la Sarthe que vous aimez !



Conception : Chryse 012

4 ans et +



Joue pour tout savoir sur la Sarthe !



À chacun son niveau

- ★ ★ ★ Facile
- ★ ★ ★ ★ Moyen
- ★ ★ ★ ★ ★ Difficile






À tes crayons !

Difficulté : ★☆☆

Colorie ce dessin de l'abbaye de l'Épau.



La p'tite info

Depuis 1982, le Festival de l'Épau et la Saison musicale de l'Épau investissent l'abbaye pour y faire résonner la musique classique.



À toi de décrypter

Difficulté : ★★★

Message codé

Pour décrypter le message codé ci-dessous, remplace chaque numéro par la lettre qui lui correspond.

Pour t'aider voici le code :

1	2	3	4	5	6	7	8	9	10	11	12	13	14	15	16	17	18	19	20	21	22	23	24	25	26
A	B	C	D	E	F	G	H	I	J	K	L	M	N	O	P	Q	R	S	T	U	V	W	X	Y	Z

12' 1 2 2 1 25 5 4 5 12' 5 16 121, 3 12 1 19 19 5 5

13 15 14 21 13 5 14 20 8 9 19 20 15 18 9 17 21 5,

3 15 14 19 20 9 20 21 5 12' 21 14 4 5 19 16 12 21 19

2 5 1 21 24 5 24 5 13 16 12 5 19 4 5

12' 1 18 3 8 9 20 5 3 20 21 18 5

3 9 19 20 5 18 3 9 5 14 14 5 5 14 6 18 1 14 3 5.

5 14 12 5 4 5 16 1 18 20 5 13 5 14 20 4 5 12 1

1958

19 1 18 20 8 5 19' 5 14 16 15 18 20 5

1 3 17 21 5 18 5 21 18.



Les 7 différences

Difficulté : ★★☆☆

Retrouve les 7 différences entre les deux images ci-dessous.



La p'tite info

Photo de la **Porsche 919 Hybrid n°2** qui a gagné les 24 Heures du Mans 2016 avec l'équipage Dumas/Lieb/Jani.



Teste tes connaissances

Difficulté : ★★☆☆

Réponds aux questions ci-dessous. Pour chacune des questions, une seule bonne réponse possible !



1/Quelle est l'année de création des 24 Heures du Mans ?

A 1843

B 1923

C 1983



2/À quelle heure a lieu le départ de la course des 24 Heures du Mans tous les ans ?

A 14h

B 15h

C 16h

3/Quelle est la longueur du Circuit des 24 Heures du Mans ?

A 13.629 km

B 23.567 km

C 33.629 km



4/Quel est le record homologué de vitesse sur le Circuit ?

A 205 km/h

B 305 km/h

C 405 km/h





Le dessin mystère

Difficulté : ★★☆☆

Point par point

Pour découvrir ce que représente le dessin ci-dessous, **relie tous les points de 1 à 66 puis de a à o.**



La p'tite info

Le « **Junior Team** » est une équipe motos dont les mécaniciens sont des élèves du Lycée Polyvalent Le Mans Sud.




Au bon endroit

Difficulté : ★☆☆☆


La bonne place

Relie chacun des sportifs à son équipement.





En t'aidant du quadrillage, reproduis le dessin de la cathédrale Saint-Julien.



Retrouve pour chacun des animaux suivants sa bonne définition.

A. Ours



B. Loup



C. Ouistiti



D. Panthère



1. Mammifère carnivore sauvage, de la taille d'un grand chien, au museau pointu et aux mâchoires puissantes.



2. Mammifère carnassier, au pelage jaune tacheté de noir ou entièrement noir, qui vit en Afrique ou en Asie.



3. Grand mammifère carnivore, à la fourrure épaisse et aux griffes puissantes.



4. Petit singe, à la queue touffue, qui vit dans les forêts d'Amérique du Sud.

La p'tite info

Fondé en 1946, le Zoo de La Flèche fut le premier zoo privé à voir le jour en France.



Les 7 différences

Difficulté : ★★☆☆

Retrouve les 7 différences entre les deux images ci-dessous.



À toi d'être inspiré

Difficulté : ★☆☆☆


Redonne des couleurs à ce dessin.



La bonne pièce

Difficulté : ★☆☆

Reconstitue le puzzle à l'aide des pièces manquantes.

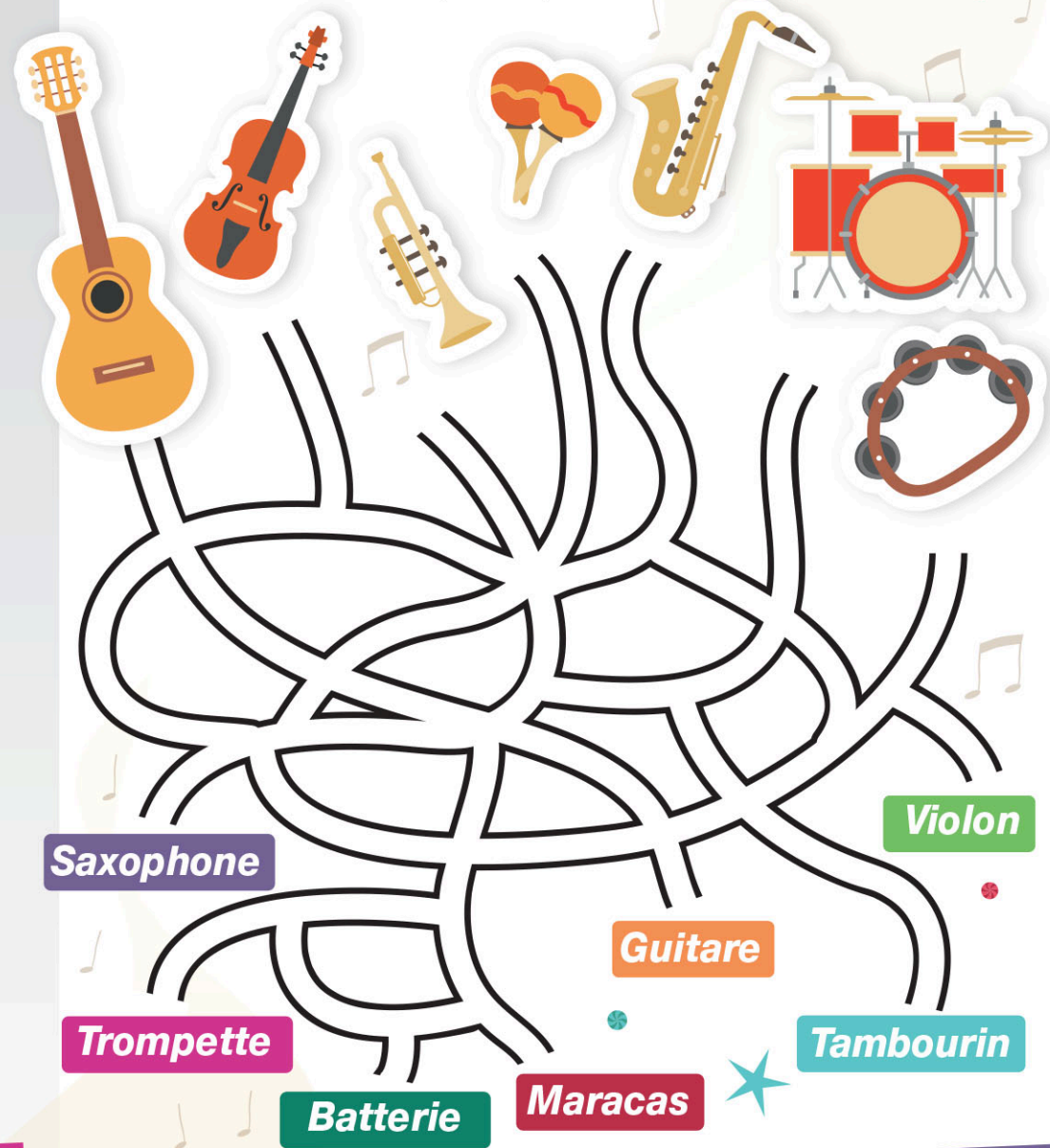


En avant la musique

Difficulté : ★★★

Labyrinthe

Retrouve le bon chemin pour chaque instrument de musique.



Réponses

p.3


À toi de décrypter

Message codé : L'abbaye de l'Épau classée monument historique constitue l'un des plus beaux exemples de l'architecture cistercienne en France. En 1958, le Département de la Sarthe s'en porte acquéreur.

p.4

Les 7 différences

- Le tracé au sol
- Le numéro de la voiture
- L'essuie-glace
- La jante de la roue avant
- L'aileron
- Le sigle Porsche
- La couleur de la barrière



p.5

Teste tes connaissances

Question 1 / Réponse B


Question 2 / Réponse B

Question 3 / Réponse A

Question 4 / Réponse C : 405 km/h, dans la ligne droite des Hunaudières et il appartient à Roger Dorchy sur WM P88 à moteur Peugeot lors des 24 Heures du Mans 1988.











p.6

Le dessin mystère



p.7

Au bon endroit

				
Joueur de football	Joueur de tennis	Coureur	Cavalier	Joueur de basket-ball
				
Cage de football	Balle de tennis	Chaussures de running	Cheval	Panier de basket-ball

p.9

La bonne définition

A / 3 - B / 1 - C / 4 - D / 2

p.10

Les 7 différences

- Le tracé au sol
- La chaussette du joueur à gauche
- La bande sur le short
- Le tableau d'affichage
- Le numéro du maillot
- La chaussette du joueur au centre
- La couleur des chaussures du joueur à droite



p.12

La bonne pièce



p.13

En avant la musique

						
Guitare	Violon	Trompette	Maracas	Saxophone	Batterie	Tambourin